

제 2 교시

수학 영역(가형)

출수형

5지선다형

1. 두 벡터  $\vec{a} = (3, -1)$ ,  $\vec{b} = (1, 2)$ 에 대하여 벡터  $\vec{a} + \vec{b}$ 의 모든 성분의 합은? [2점]

- ① 1      ② 2      ③ 3      ④ 4      ⑤ 5

2.  $\lim_{x \rightarrow 0} \frac{\ln(1+5x)}{e^{2x}-1}$ 의 값은? [2점]

- ① 1      ②  $\frac{3}{2}$       ③ 2      ④  $\frac{5}{2}$       ⑤ 3

3. 좌표공간의 두 점  $A(1, 6, 4)$ ,  $B(a, 2, -4)$ 에 대하여 선분  $AB$ 를 1:3으로 내분하는 점의 좌표가  $(2, 5, 2)$ 이다.  $a$ 의 값은? [2점]

- ① 1      ② 3      ③ 5      ④ 7      ⑤ 9

4. 두 사건  $A$ 와  $B$ 는 서로 독립이고

$$P(A) = \frac{2}{3}, \quad P(A \cup B) = \frac{5}{6}$$

일 때,  $P(B)$ 의 값은? [3점]

- ①  $\frac{1}{3}$       ②  $\frac{5}{12}$       ③  $\frac{1}{2}$       ④  $\frac{7}{12}$       ⑤  $\frac{2}{3}$

5. 닫힌 구간  $[1, 3]$  에서 함수  $f(x) = 1 + \left(\frac{1}{3}\right)^{x-1}$  의 최댓값은?  
[3점]

- ①  $\frac{5}{3}$     ② 2    ③  $\frac{7}{3}$     ④  $\frac{8}{3}$     ⑤ 3

6.  $\left(x + \frac{2}{x}\right)^8$  의 전개식에서  $x^4$  의 계수는? [3점]

- ① 108    ② 112    ③ 116    ④ 120    ⑤ 124

7.  $0 \leq x < 2\pi$  일 때, 방정식

$$\cos^2 x = \sin^2 x - \sin x$$

의 모든 해의 합은? [3점]

- ①  $2\pi$     ②  $\frac{5}{2}\pi$     ③  $3\pi$     ④  $\frac{7}{2}\pi$     ⑤  $4\pi$

8. 타원  $\frac{(x-2)^2}{a} + \frac{(y-2)^2}{4} = 1$ 의 두 초점의 좌표가  $(6, b), (-2, b)$ 일 때,  $ab$ 의 값은? (단,  $a$ 는 양수이다.) [3점]

- ① 40      ② 42      ③ 44      ④ 46      ⑤ 48

9. 실수 전체의 집합에서 미분가능한 함수  $f(x)$ 에 대하여 함수  $g(x)$ 를

$$g(x) = \frac{f(x)}{e^{x-2}}$$

라 하자.  $\lim_{x \rightarrow 2} \frac{f(x)-3}{x-2} = 5$ 일 때,  $g'(2)$ 의 값은? [3점]

- ① 1      ② 2      ③ 3      ④ 4      ⑤ 5

10. 어느 공장에서 생산하는 화장품 1개의 내용량은 평균이 201.5g이고 표준편차가 1.8g인 정규분포를 따른다고 한다.

이 공장에서 생산한 화장품 중 임의추출한 9개의 화장품 내용량의 표본평균이 200g 이상일 확률을 오른쪽 표준정규분포표를 이용하여 구한 것은? [3점]

$z$	$P(0 \leq Z \leq z)$
1.0	0.3413
1.5	0.4332
2.0	0.4772
2.5	0.4938

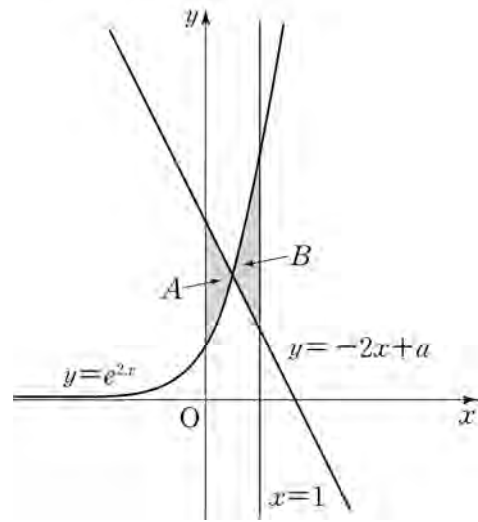
- ① 0.7745    ② 0.8413    ③ 0.9332    ④ 0.9772    ⑤ 0.9938

11. 실수 전체의 집합에서 미분가능한 두 함수  $f(x)$ ,  $g(x)$ 가 있다.  $f(x)$ 가  $g(x)$ 의 역함수이고  $f(1)=2$ ,  $f'(1)=3$ 이다. 함수  $h(x)=xg(x)$ 라 할 때,  $h'(2)$ 의 값은? [3점]

- ① 1      ②  $\frac{4}{3}$       ③  $\frac{5}{3}$       ④ 2      ⑤  $\frac{7}{3}$

12. 곡선  $y=e^{2x}$ 과  $y$ 축 및 직선  $y=-2x+a$ 로 둘러싸인 영역을  $A$ , 곡선  $y=e^{2x}$ 과 두 직선  $y=-2x+a$ ,  $x=1$ 로 둘러싸인 영역을  $B$ 라 하자.  $A$ 의 넓이와  $B$ 의 넓이가 같을 때, 상수  $a$ 의 값은? (단,  $1 < a < e^2$ ) [3점]

- ①  $\frac{e^2+1}{2}$       ②  $\frac{2e^2+1}{4}$       ③  $\frac{e^2}{2}$   
 ④  $\frac{2e^2-1}{4}$       ⑤  $\frac{e^2-1}{2}$

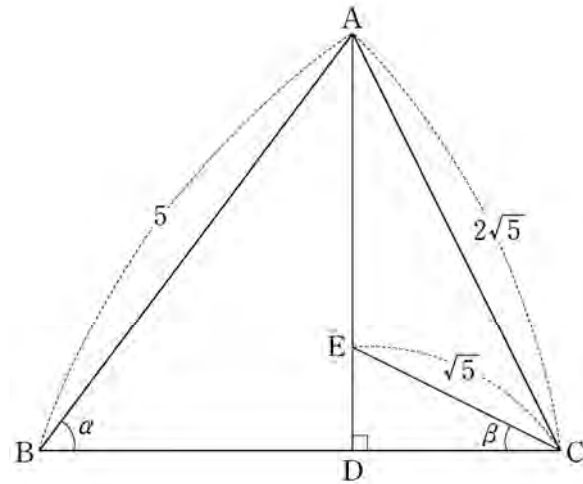


13. 한 개의 주사위를 두 번 던진다. 6의 눈이 한 번도 나오지 않을 때, 나온 두 눈의 수의 합이 4의 배수일 확률은? [3점]

- ①  $\frac{4}{25}$     ②  $\frac{1}{5}$     ③  $\frac{6}{25}$     ④  $\frac{7}{25}$     ⑤  $\frac{8}{25}$

14. 그림과 같이  $\overline{AB}=5$ ,  $\overline{AC}=2\sqrt{5}$  인 삼각형 ABC의 꼭짓점 A에서 선분 BC에 내린 수선의 발을 D라 하자.

선분 AD를 3:1로 내분하는 점 E에 대하여  $\overline{EC}=\sqrt{5}$ 이다.  $\angle ABD = \alpha$ ,  $\angle DCE = \beta$ 라 할 때,  $\cos(\alpha - \beta)$ 의 값은? [4점]



- ①  $\frac{\sqrt{5}}{5}$     ②  $\frac{\sqrt{5}}{4}$     ③  $\frac{3\sqrt{5}}{10}$   
 ④  $\frac{7\sqrt{5}}{20}$     ⑤  $\frac{2\sqrt{5}}{5}$

15. 함수  $f(x)$ 가

$$f(x) = \int_0^x \frac{1}{1+e^{-t}} dt$$

일 때,  $(f \circ f)(a) = \ln 5$ 를 만족시키는 실수  $a$ 의 값은? [4점]

- ①  $\ln 11$     ②  $\ln 13$     ③  $\ln 15$     ④  $\ln 17$     ⑤  $\ln 19$

16. 좌표평면 위를 움직이는 점  $P$ 의 시각  $t(0 < t < \pi)$ 에서의 위치  $P(x, y)$ 가

$$x = \sqrt{3} \sin t, \quad y = 2 \cos t - 5$$

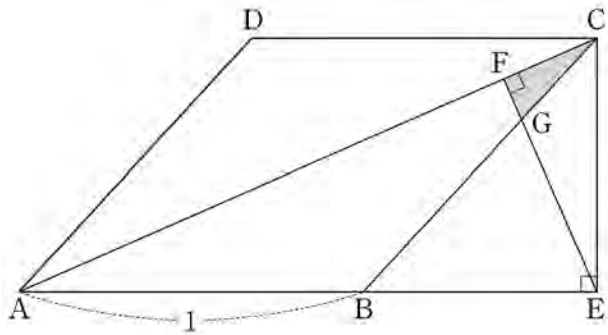
이다. 시각  $t = \alpha(0 < \alpha < \pi)$ 에서 점  $P$ 의 속도  $\vec{v}$ 와  $\overrightarrow{OP}$ 가 서로 평행할 때,  $\cos \alpha$ 의 값은? (단,  $O$ 는 원점이다.) [4점]

- ①  $\frac{1}{10}$     ②  $\frac{1}{5}$     ③  $\frac{3}{10}$     ④  $\frac{2}{5}$     ⑤  $\frac{1}{2}$

17. 그림과 같이 한 변의 길이가 1인 마름모 ABCD가 있다.

점 C에서 선분 AB의 연장선에 내린 수선의 발을 E,  
 점 E에서 선분 AC에 내린 수선의 발을 F, 선분 EF와  
 선분 BC의 교점을 G라 하자.  $\angle DAB = \theta$ 일 때,  
 삼각형 CFG의 넓이를  $S(\theta)$ 라 하자.

$\lim_{\theta \rightarrow 0^+} \frac{S(\theta)}{\theta^5}$ 의 값은? (단,  $0 < \theta < \frac{\pi}{2}$ ) [4점]



- ①  $\frac{1}{24}$     ②  $\frac{1}{20}$     ③  $\frac{1}{16}$     ④  $\frac{1}{12}$     ⑤  $\frac{1}{8}$

18. 서로 다른 공 4개를 남김없이 서로 다른 상자 4개에  
 나누어 넣으려고 할 때, 넣은 공의 개수가 1인 상자가 있도록  
 넣는 경우의 수는? (단, 공을 하나도 넣지 않은 상자가 있을  
 수 있다.) [4점]

- ① 220    ② 216    ③ 212    ④ 208    ⑤ 204





21. 양수  $t$ 에 대하여 구간  $[1, \infty)$ 에서 정의된 함수  $f(x)$ 가

$$f(x) = \begin{cases} \ln x & (1 \leq x < e) \\ -t + \ln x & (x \geq e) \end{cases}$$

일 때, 다음 조건을 만족시키는 일차함수  $g(x)$  중에서 직선  $y = g(x)$ 의 기울기의 최솟값을  $h(t)$ 라 하자.

1 이상의 모든 실수  $x$ 에 대하여  $(x - e)\{g(x) - f(x)\} \geq 0$ 이다.

미분가능한 함수  $h(t)$ 에 대하여 양수  $a$ 가  $h(a) = \frac{1}{e+2}$ 을

만족시킨다.  $h\left(\frac{1}{2e}\right) \times h'(a)$ 의 값은? [4점]

- ①  $\frac{1}{(e+1)^2}$       ②  $\frac{1}{e(e+1)}$       ③  $\frac{1}{e^2}$   
 ④  $\frac{1}{(e-1)(e+1)}$       ⑤  $\frac{1}{e(e-1)}$

단답형

22.  ${}_5C_3$ 의 값을 구하시오. [3점]

23. 함수  $f(x) = \ln(x^2 + 1)$ 에 대하여  $f'(1)$ 의 값을 구하시오.

[3점]

24. 곡선  $2x + x^2y - y^3 = 2$  위의 점  $(1, 1)$ 에서의 접선의 기울기를 구하시오. [3점]

25. 좌표평면 위의 점  $(4, 1)$ 을 지나고 벡터  $\vec{n} = (1, 2)$ 에 수직인 직선이  $x$ 축,  $y$ 축과 만나는 점의 좌표를 각각  $(a, 0)$ ,  $(0, b)$ 라 하자.  $a+b$ 의 값을 구하시오. [3점]

26. 확률변수  $X$ 가 평균이  $m$ , 표준편차가  $\sigma$ 인 정규분포를 따르고

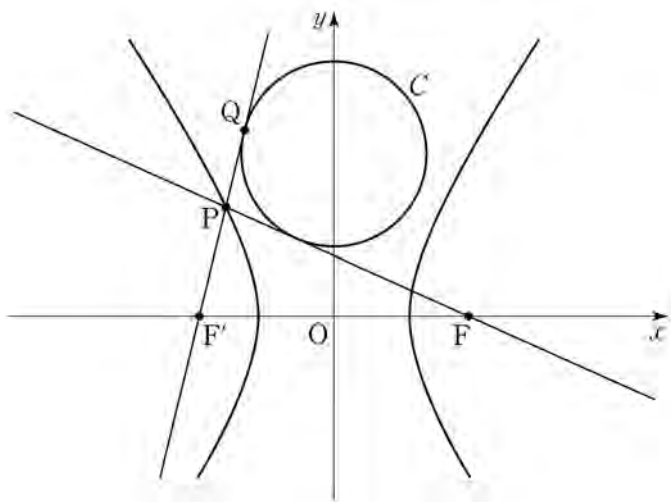
$$P(X \leq 3) = P(3 \leq X \leq 80) = 0.3$$

일 때,  $m + \sigma$ 의 값을 구하시오.

(단,  $Z$ 가 표준정규분포를 따르는 확률변수일 때,  $P(0 \leq Z \leq 0.25) = 0.1$ ,  $P(0 \leq Z \leq 0.52) = 0.2$ 로 계산한다.)

[4점]

27. 그림과 같이 두 초점이  $F, F'$  인 쌍곡선  $\frac{x^2}{8} - \frac{y^2}{17} = 1$  위의 점  $P$ 에 대하여 직선  $FP$ 와 직선  $F'P$ 에 동시에 접하고 중심이  $y$ 축 위에 있는 원  $C$ 가 있다. 직선  $F'P$ 와 원  $C$ 의 접점  $Q$ 에 대하여  $\overline{F'Q} = 5\sqrt{2}$  일 때,  $\overline{FP}^2 + \overline{F'P}^2$ 의 값을 구하시오. (단,  $\overline{F'P} < \overline{FP}$ ) [4점]



28. 방정식  $x+y+z=10$ 을 만족시키는 음이 아닌 정수  $x, y, z$ 의 모든 순서쌍  $(x, y, z)$  중에서 임의로 한 개를 선택한다. 선택한 순서쌍  $(x, y, z)$ 가  $(x-y)(y-z)(z-x) \neq 0$ 을 만족시킬 확률은  $\frac{q}{p}$ 이다.  $p+q$ 의 값을 구하시오. (단,  $p$ 와  $q$ 는 서로소인 자연수이다.) [4점]

29. 좌표공간에 구  $x^2 + y^2 + z^2 = 6$ 이 평면  $x + 2z - 5 = 0$ 과 만나서 생기는 원  $C$ 가 있다. 원  $C$  위의 점 중  $y$ 좌표가 최소인 점을  $P$ 라 하고, 점  $P$ 에서  $xy$ 평면에 내린 수선의 발을  $Q$ 라 하자. 원  $C$  위를 움직이는 점  $X$ 에 대하여  $|\overrightarrow{PX} + \overrightarrow{QX}|^2$ 의 최댓값은  $a + b\sqrt{30}$ 이다.  $10(a+b)$ 의 값을 구하시오. (단,  $a$ 와  $b$ 는 유리수이다.) [4점]

30. 실수  $t$ 에 대하여 함수  $f(x)$ 를

$$f(x) = \begin{cases} 1 - |x - t| & (|x - t| \leq 1) \\ 0 & (|x - t| > 1) \end{cases}$$

이라 할 때, 어떤 홀수  $k$ 에 대하여 함수

$$g(t) = \int_k^{k+8} f(x) \cos(\pi x) dx$$

가 다음 조건을 만족시킨다.

함수  $g(t)$ 가  $t = \alpha$ 에서 극소이고  $g(\alpha) < 0$ 인 모든  $\alpha$ 를 작은 수부터 크기순으로 나열한 것을  $\alpha_1, \alpha_2, \dots, \alpha_m$

( $m$ 은 자연수)라 할 때,  $\sum_{i=1}^m \alpha_i = 45$ 이다.

$k - \pi^2 \sum_{i=1}^m g(\alpha_i)$ 의 값을 구하시오. [4점]

\* 확인 사항

○ 답안지의 해당란에 필요한 내용을 정확히 기입(표기)했는지 확인 하시오.